

DIBUJO 1 | DCV | FBA | 2010

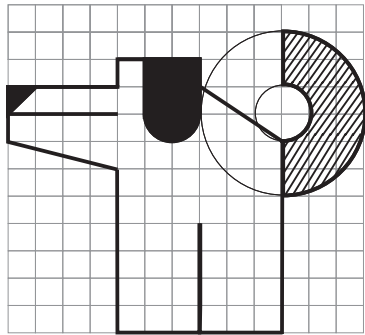
EJERCICIO: ACERCAMIENTO AL PAPERCRAFT

- 1- Resolver el ejercicio de perspectiva a 2 puntos de fuga
- 2- Copiar a escala los datos en otra lámina.

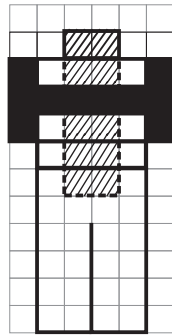
Agregar y plantear solapas de dobleces y cortes.

- 3- Trasladar los datos de la lámina 2 en cartulina de alto gramaje incluyendo solapas y cortes.

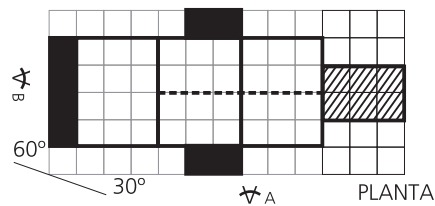
Armar el papercraft cortando y pegando de modo de obtener un objeto volumétrico.



VISTA A



VISTA B



PLANTA

MOD: 2 CM
HO: 6 MOD.
D: 12 MOD.